

ВСЕРОССИЙСКАЯ ПРОВЕРОЧНАЯ РАБОТА**ФИЗИКА****11 КЛАСС****Пояснения к образцу всероссийской проверочной работы**

При ознакомлении с образцом проверочной работы следует иметь в виду, что задания, включённые в образец, не отражают всех умений и вопросов содержания, которые будут проверяться в рамках всероссийской проверочной работы. Полный перечень элементов содержания и умений, которые могут проверяться в работе, приведены в кодификаторе элементов содержания и требований к уровню подготовки выпускников для разработки всероссийской проверочной работы по физике. Назначение образца проверочной работы заключается в том, чтобы дать представление о структуре всероссийской проверочной работы, количестве и форме заданий, уровне их сложности.

ВСЕРОССИЙСКАЯ ПРОВЕРОЧНАЯ РАБОТА

ФИЗИКА

11 КЛАСС

ОБРАЗЕЦ

Инструкция по выполнению работы

Проверочная работа включает в себя 18 заданий. На выполнение работы по физике отводится 1 час 30 минут (90 минут).

Оформляйте ответы в тексте работы согласно инструкциям к заданиям. В случае записи неверного ответа зачеркните его и запишите рядом новый.

При выполнении работы разрешается использовать калькулятор.

При выполнении заданий Вы можете использовать черновик. Записи в черновике проверяться и оцениваться не будут.

Советуем выполнять задания в том порядке, в котором они даны. Для экономии времени пропускайте задание, которое не удаётся выполнить сразу, и переходите к следующему. Если после выполнения всей работы у Вас останется время, Вы сможете вернуться к пропущенным заданиям.

Баллы, полученные Вами за выполненные задания, суммируются. Постарайтесь выполнить как можно больше заданий и набрать наибольшее количество баллов.

Желаем успеха!

Ниже приведены справочные данные, которые могут понадобиться Вам при выполнении работы.

Десятичные приставки

Наименование	Обозначение	Множитель	Наименование	Обозначение	Множитель
гига	Г	10^9	санти	с	10^{-2}
мега	М	10^6	милли	м	10^{-3}
кило	к	10^3	микро	мк	10^{-6}
гекто	г	10^2	нано	н	10^{-9}
деци	д	10^{-1}	пико	п	10^{-12}

Константы

ускорение свободного падения на Земле

$$g = 10 \text{ м/с}^2$$

гравитационная постоянная

$$G = 6,7 \cdot 10^{-11} \text{ Н} \cdot \text{м}^2 / \text{кг}^2$$

универсальная газовая постоянная

$$R = 8,31 \text{ Дж}/(\text{моль} \cdot \text{К})$$

скорость света в вакууме

$$c = 3 \cdot 10^8 \text{ м/с}$$

коэффициент пропорциональности в законе Кулона

$$k = 9 \cdot 10^9 \text{ Н} \cdot \text{м}^2 / \text{Кл}^2$$

модуль заряда электрона

$$e = 1,6 \cdot 10^{-19} \text{ Кл}$$

(элементарный электрический заряд)

$$h = 6,6 \cdot 10^{-34} \text{ Дж} \cdot \text{с}$$

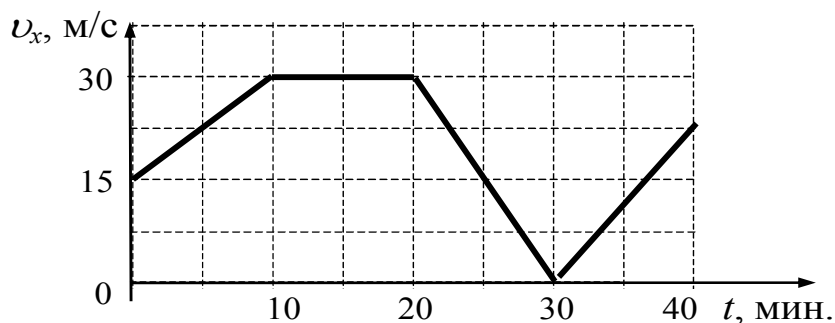
постоянная Планка

- 1 Прочитайте перечень понятий, с которыми Вы сталкивались в курсе физики.
*объем, диффузия, сила тока, магнитная индукция,
кипение, преломление света*

Разделите эти понятия на две группы по выбранному Вами признаку. Запишите в таблицу название каждой группы и понятия, входящие в эту группу.

Название группы понятий	Перечень понятий

- 2 Автомобиль движется по прямой улице. На графике представлена зависимость его скорости от времени.



Выберите **два** утверждения, которые верно описывают движение автомобиля, и запишите номера, под которыми они указаны.

- 1) Первые 10 мин. автомобиль движется равномерно, а следующие 10 мин. стоит на месте.
- 2) Первые 10 мин. автомобиль движется равноускоренно, а следующие 10 мин. – равномерно.
- 3) Максимальная скорость автомобиля за весь период наблюдения составляет 72 км/ч.
- 4) Через 30 мин. автомобиль остановился, а затем поехал в другую сторону.
- 5) Максимальный модуль ускорения автомобиля за весь период наблюдения равен 3 м/с^2 .

Ответ:

--	--

3

Человек пытается передвинуть пианино вдоль стены. Изобразите на данном рисунке силы, которые действуют на пианино, и направление его ускорения, если инструмент удалось сдвинуть с места.



4

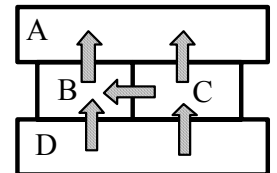
Прочитайте текст и вставьте пропущенные слова:
уменьшается
увеличивается
не изменяется

Слова в ответе могут повторяться.

С крыши дома оторвалась сосулька. По мере её падения кинетическая энергия сосульки _____, её потенциальная энергия относительно поверхности Земли _____. Если пренебречь сопротивлением воздуха, то можно говорить о том, что полная механическая энергия сосульки _____.

5

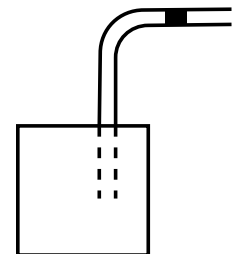
Четыре металлических бруска (A, B, C и D) положили вплотную друг к другу, как показано на рисунке. Стрелки указывают направление теплопередачи от бруска к бруску. Температуры брусков в данный момент составляют 100 °С, 80 °С, 60 °С, 40 °С. Какой из брусков имеет температуру 60 °С?



Ответ: брусок _____

6

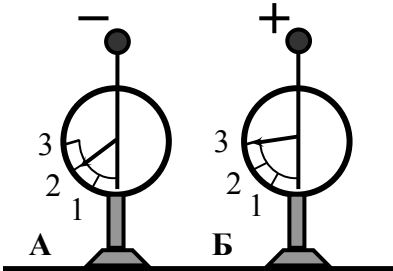
В герметично закрытый пакет из-под сока вставлена изогнутая трубочка для коктейля (см. рисунок), внутри которой находится небольшой столбик сока. Если обхватить пакет руками и нагревать его, не оказывая на него давления, столбик сока начинает двигаться вправо к открытому концу трубочки. Выберите все утверждения, которые верно характеризуют процесс, происходящий с воздухом в пакете, и запишите номера выбранных утверждений.



- 1) Воздух в пакете расширяется.
- 2) Воздух в пакете сжимается.
- 3) Температура воздуха понижается.
- 4) Температура воздуха повышается.
- 5) Давление воздуха в пакете остается неизменным.
- 6) Давление воздуха в пакете повышается.

Ответ: _____

7 На рисунке изображены два одинаковых электрометра, шары которых имеют заряды противоположных знаков. Каковы будут показания обоих электрометров, если их шары соединить тонкой медной проволокой?



□ Ответ:
Показания электрометра А: _____
Показания электрометра Б: _____

8 В паспорте электрического фена написано, что мощность его двигателя составляет 1,2 кВт при напряжении в сети 220 В. Определите силу тока, протекающего по электрической цепи фена при включении его в розетку.



Запишите формулы и сделайте расчёты.
□ Ответ: _____

9 Расположите виды электромагнитных волн, излучаемых Солнцем, в порядке возрастания их частоты. Запишите в ответе соответствующую последовательность цифр.

- 1) рентгеновское излучение
- 2) инфракрасное излучение
- 3) видимое излучение

□ Ответ: _____ → _____ → _____

10 На рисунке изображён фрагмент Периодической системы химических элементов Д.И. Менделеева. Изотоп урана испытывает α-распад, при котором образуются ядро гелия ${}^4_2\text{He}$ и ядро другого элемента. Определите, какой элемент образуется при α-распаде изотопа урана.

Th 232,038 Торий	90	Pa [231] Протактиний	91	U 238,03 Уран	92	Np [237] Нептуний	93	Pu [242] Плутоний	94	Am [243] Америций	95	Cm [247] Кюрий	96
------------------------	----	----------------------------	----	---------------------	----	-------------------------	----	-------------------------	----	-------------------------	----	----------------------	----

□ Ответ: _____

13

Установите соответствие между примерами и физическими явлениями, которые эти примеры иллюстрируют. Для каждого примера проявления физических явлений из первого столбца подберите соответствующее название физического явления из второго столбца.

	ПРИМЕРЫ	ФИЗИЧЕСКИЕ ЯВЛЕНИЯ
А)	Стрелка компаса показывает на север.	1) электризация тела при трении
Б)	При чистке одежды волосяной щеткой к ней прилипают ворсинки.	2) электризация тела через влияние
		3) намагничивание вещества в магнитном поле
		4) взаимодействие постоянного магнита с магнитным полем Земли

Запишите в таблицу выбранные цифры под соответствующими буквами.



Ответ:

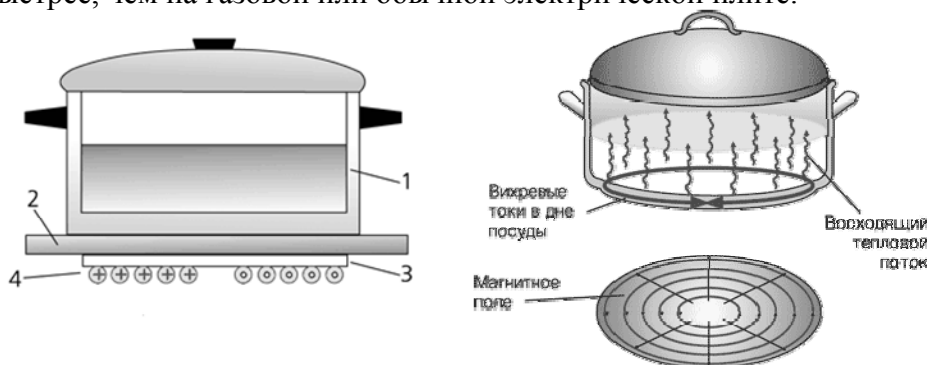
А	Б

Прочитайте текст и выполните задания 14 и 15.

Индукционные плиты

Под стеклокерамической поверхностью индукционной плиты находится катушка индуктивности. По ней протекает переменный электрический ток, создающий переменное магнитное поле. В дне посуды наводятся вихревые или индукционные токи, которые нагревают дно, а от него и помещённые в посуду продукты. Частота переменного тока в катушке индуктивности составляет 20–60 кГц, и чем она выше, тем сильнее вихревые токи в дне посуды.

В отличие от обычной газовой плиты, здесь нет никакой теплопередачи снизу вверх, от конфорки через стеклокерамическую поверхность к посуде, а значит, нет и тепловых потерь. С точки зрения эффективности использования потребляемой электроэнергии индукционная плита выгодно отличается от всех других типов кухонных плит: нагрев происходит быстрее, чем на газовой или обычной электрической плите.



Устройство индукционной плиты:

1 – посуда с дном из ферромагнитного материала; 2 – стеклокерамическая поверхность;
3 – слой изоляции; 4 – катушка индуктивности

Индукционные плиты требуют применения металлической посуды, обладающей ферромагнитными свойствами (к посуде должен притягиваться магнит). Причём чем толще дно, тем быстрее происходит нагрев.

14 Какое физическое явление лежит в основе действия индукционной плиты?

Ответ: _____

15 Выберите из предложенного перечня **два** верных утверждения и запишите номера, под которыми они указаны.

- 1) Действие индукционной плиты основано на действии магнитного поля на проводник с током.
- 2) Нагревание продуктов в посуде на индукционной плите связано с тепловым действием электрического тока.
- 3) Индукционный ток, нагревающий посуду, зависит от частоты переменного тока в катушке индуктивности.
- 4) Дно посуды для индукционных плит может быть выполнено из стекла.
- 5) КПД нагрева у обычной электрической плиты выше, чем у индукционной.

Ответ:

--	--

Прочитайте текст и выполните задания 16–18.**Солнечная система**

Центральным объектом Солнечной системы является звезда Солнце. В Солнце сосредоточена подавляющая часть всей массы системы (около 99,866%); оно удерживает своим тяготением планеты и прочие тела, принадлежащие к Солнечной системе и вращающиеся вокруг Солнца. В таблице приведены основные характеристики планет Солнечной системы.

Таблица.

Сравнительная таблица некоторых параметров планет

Планета	Масса*	Расстояние до Солнца*	Время обращения вокруг Солнца*	Время обращения вокруг своей оси*	Средняя плотность, кг/м ³
Меркурий	0,06	0,38	0,241	58,6	5427
Венера	0,82	0,72	0,615	243	5243
Земля	1,0	1,0	1,0	1,0	5515
Марс	0,11	1,52	1,88	1,03	3933
Юпитер	318	5,20	11,86	0,414	1326
Сатурн	95	9,54	29,46	0,426	687
Уран	14,6	19,22	84,01	0,718	1270
Нептун	17,2	30,06	164,79	0,671	1638

* Параметры в таблице указаны в отношении к аналогичным данным Земли.

Между орбитами Марса и Юпитера находится главный пояс астероидов – малых планет. Астероидов много; они сталкиваются, дробятся, изменяют орбиты друг друга, так что некоторые осколки при своём движении пересекают орбиту Земли.

Прохождение осколков (метеорных тел) через земную атмосферу выглядит с поверхности Земли как «падающие звезды». В редких случаях прохождения более крупных осколков можно наблюдать летящий по небу огненный шар. Это явление называют болидом.

Двигаясь в атмосфере, твёрдое тело нагревается вследствие торможения, и вокруг него образуется обширная светящаяся оболочка, состоящая из горячих газов. От сильного сопротивления воздуха метеорное тело нередко раскалывается, и его осколки – метеориты с грохотом падают на Землю.

16

Какой из параметров, указанных в таблице, увеличивается по мере удаления планеты от Солнца?

Ответ: _____

17

Определите длительность суток на Юпитере. Ответ округлите до целого числа.

Ответ: _____ ч.

18

Можно ли наблюдать такое явление, как болид, находясь на Луне? Ответ поясните.

Ответ: _____

